

Заполняется ПЕЧАТНЫМИ БУКВАМИ чернилами черного или синего цвета по образцам:

А	Б	В	Г	Д	Е	Ж	З	И	К	Л	М	Н	О	П	Р	С	Т	У	Ф	Х	Ц	Ч	Ш	Щ	Ъ	Ы	Ь	Э	Ю	Я	@	8	9	,
А	В	С	Д	Е	F	G	Н	I	J	K	L	M	N	O	P	Q	R	S	T	U	V	W	X	Y	Z	1	2	3	4	5	6	7	0	.

ПРЕДМЕТ

Физическая культура

КЛАСС

5Б

ДАТА

23.09.2024

ШИФР УЧАСТНИКА

Ф5-8

ФАМИЛИЯ

Кузнецов

ИМЯ

Семён

ОТЧЕСТВО


Александрович

ВСЕРОССИЙСКАЯ ОЛИМПИАДА ШКОЛЬНИКОВ
ПО ФИЗИЧЕСКОЙ КУЛЬТУРЕ
2024–2025 уч.г.
ШКОЛЬНЫЙ ЭТАП

5–6 классы

ТЕОРЕТИКО-МЕТОДИЧЕСКИЙ ТУР

1. В каком виде спорта используется данный мяч?



- а) волейбол
- б) футбол
- в) гандбол
- г) баскетбол

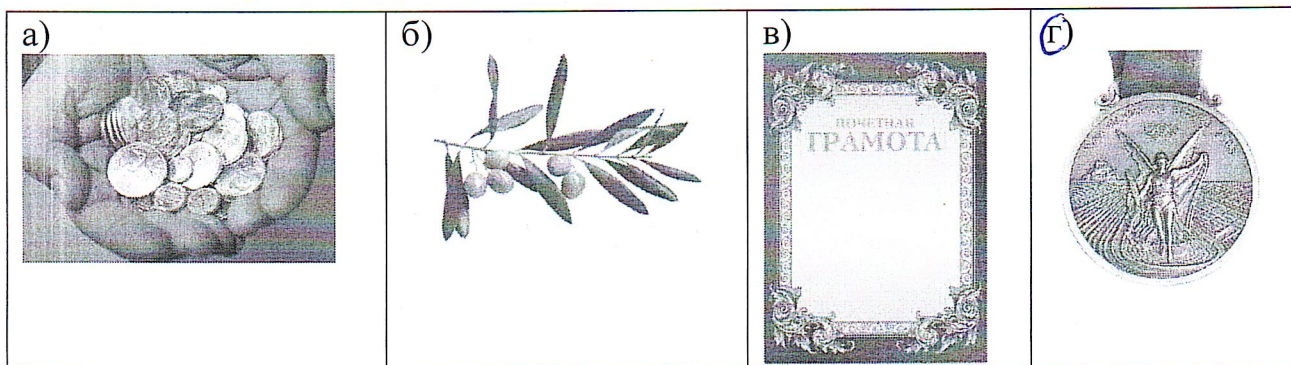
1

2. Какой ступени соответствуют нормы ГТО для школьников 11–12 лет?

- а) 1 ступень
- б) 2 ступень
- в) 3 ступень
- г) 4 ступень

0

3. Какую награду получали победители античных Олимпийских игр?



0


4. Как называется гимнастическое положение, представленное на рисунке?



- а) исходное положение
- б) основная стойка
- в) стойка руки вниз
- г) стойка ноги вместе


1

5. Какой из талисманов соответствует зимним Олимпийским играм, проходившим в 2014 году в Сочи?




1

6. На каком изображении представлен вис на согнутых руках?



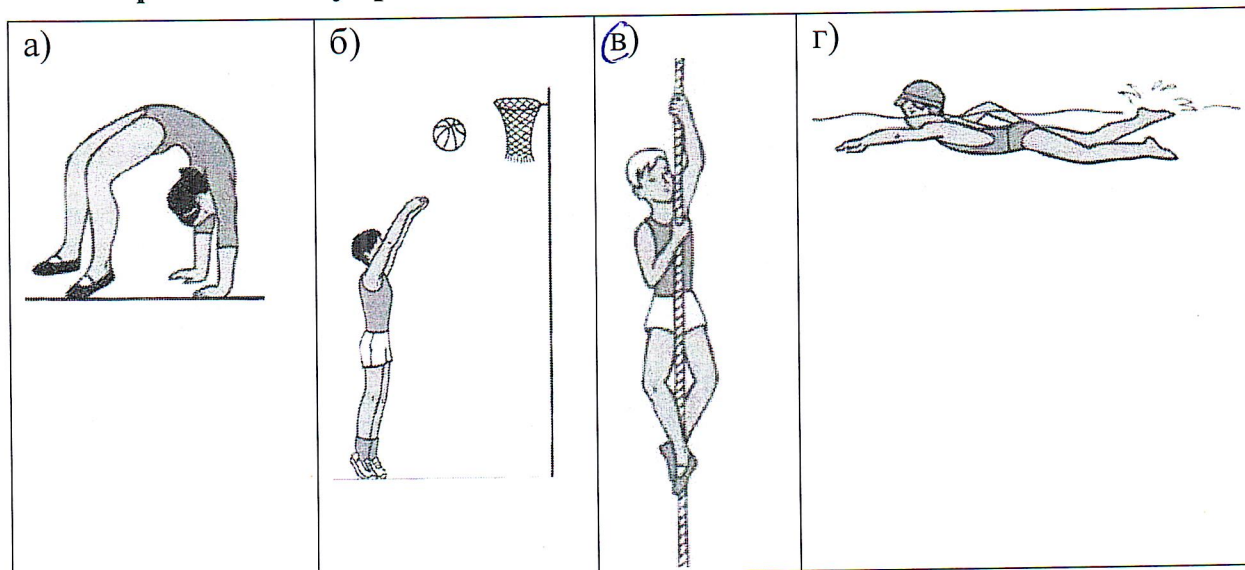
1

7. На какой фотографии изображена олимпийская чемпионка Светлана Хоркина?



1

8. Какое физическое упражнение способствует развитию силы?



1

9. Вид спорта, соединявший в себе борьбу и кулачный бой. Входил в программу античных Олимпийских игр.

1

- а) пентатлон
- б) панкратион
- в) долиходром
- г) гоплитодром

10. В каком виде спорта мяч имеет наибольший размер?

- а) гольф
- б) настольный теннис
- в) бейсбол
- г) баскетбол

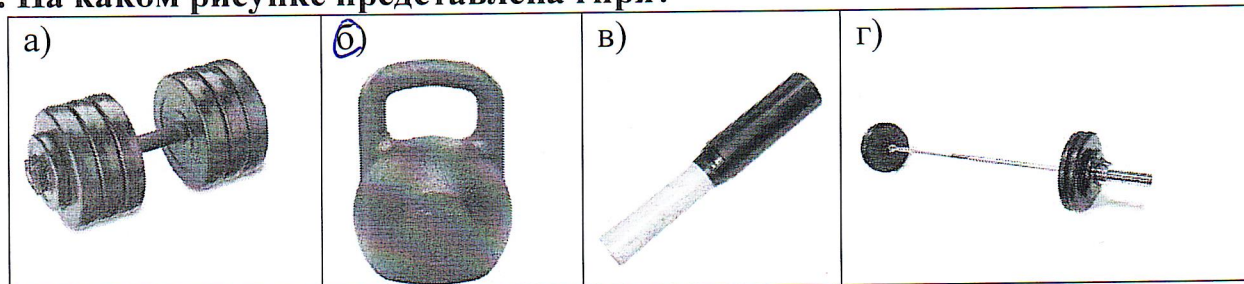
0

11. В каком виде спорта соревнования проводятся как на открытом воздухе, так и в крытых сооружениях?

- а) лёгкая атлетика
- б) фигурное катание
- в) лыжные гонки
- г) фехтование

1

12. На каком рисунке представлена гиря?



1

13. Назовите вид спорта, в котором спортивная обувь, представленная на рисунке, является частью экипировки?

Фигурное катание



0

14. Педагог, специалист в каком-либо виде спорта, занимающийся подготовкой спортсменов, – это *тренер*

2

15. В каком году до нашей эры праздновались первые античные Олимпийские игры? В ответ запишите только число. *706*

0

16. Способность выполнять движение с большой амплитудой – это *сфера*



0

17. Спортивное сооружение, изображённое на фотографии, – это *футбольное поле*

0



18. Установите соответствие между изображениями и видами закаливания водой.

Изображение	Вид закаливания
 <p>1) В</p>	<p>А) обливание</p>
 <p>2) Г</p>	<p>Б) обтирание мокрым полотенцем</p>
 <p>3) Б</p>	<p>В) ножные ванны</p>
 <p>4) А</p>	<p>Г) купание в открытом водоёме</p>

1

1

1

1

