

Ф6-8

Всероссийская олимпиада школьников

школьный этап

Заполняется ПЕЧАТНЫМИ БУКВАМИ чернилами черного или синего цвета по образцам:

А	Б	В	Г	Д	Е	Ж	З	И	К	Л	М	Н	О	П	Р	С	Т	У	Ф	Х	Ц	Ч	Ш	Щ	Ъ	Ы	Ь	Э	Ю	Я	@	8	9	,
A	B	C	D	E	F	G	H	I	J	K	L	M	N	O	P	Q	R	S	T	U	V	W	X	Y	Z	1	2	3	4	5	6	7	0	.

ПРЕДМЕТ  КЛАСС

ДАТА  .  .

ШИФР УЧАСТНИКА

ФАМИЛИЯ

ИМЯ

ОТЧЕСТВО

Р6-8

ВСЕРОССИЙСКАЯ ОЛИМПИАДА ШКОЛЬНИКОВ  
ПО ФИЗИЧЕСКОЙ КУЛЬТУРЕ  
2024–2025 уч.г.  
ШКОЛЬНЫЙ ЭТАП

5–6 классы

ТЕОРЕТИКО-МЕТОДИЧЕСКИЙ ТУР

1. В каком виде спорта используется данный мяч?







- а) волейбол
- б) футбол
- в) гандбол
- + г) баскетбол

2. Какой ступени соответствуют нормы ГТО для школьников 11–12 лет?

- а) 1 ступень
- б) 2 ступень
- + в) 3 ступень
- г) 4 ступень

3. Какую награду получали победители античных Олимпийских игр?


а) 	б) 	<u>в)</u> 	<u>г)</u> 
---	---	---	--

4. Как называется гимнастическое положение, представленное на рисунке?




- а) исходное положение
- б) основная стойка
- в) стойка руки вниз
- г) стойка ноги вместе


5. Какой из талисманов соответствует зимним Олимпийским играм, проходившим в 2014 году в Сочи?



6. На каком изображении представлен вис на согнутых руках?

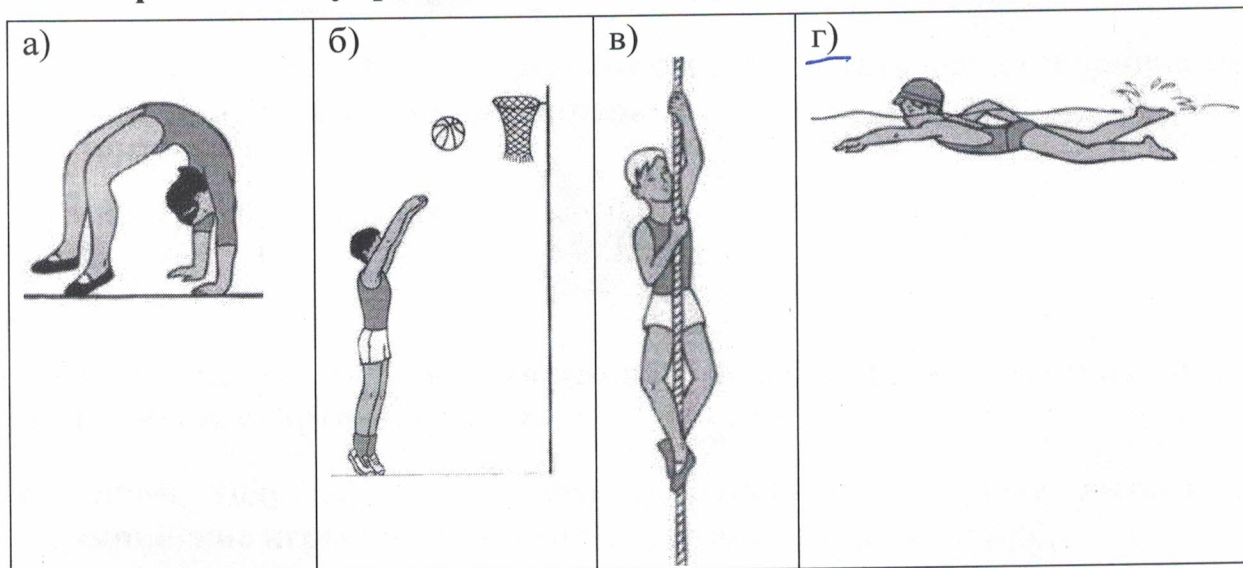


7. На какой фотографии изображена олимпийская чемпионка Светлана Хоркина?



+

8. Какое физическое упражнение способствует развитию силы?



+

9. Вид спорта, соединявший в себе борьбу и кулачный бой. Входил в программу античных Олимпийских игр.

- a) пентатлон
- б) панкратион
- в) долиходром
- г) гоплитодром

+

10. В каком виде спорта мяч имеет наибольший размер?


- a) гольф
- б) настольный теннис
- в) бейсбол
- г) баскетбол

+

11. В каком виде спорта соревнования проводятся как на открытом воздухе, так и в крытых сооружениях?

- а) лёгкая атлетика
- б) фигурное катание
- в) лыжные гонки
- г) фехтование

12. На каком рисунке представлена гиря?



13. Назовите вид спорта, в котором спортивная обувь, представленная на рисунке, является частью экипировки?

*фигурное катание*



14. Педагог, специалист в каком-либо виде спорта, занимающийся подготовкой спортсменов, – это *тренер*

15. В каком году до нашей эры праздновались первые античные Олимпийские игры? В ответ запишите только число. *988*





16. Способность выполнять движение с большой амплитудой – это *гибкость*

17. Спортивное сооружение, изображённое на фотографии, – это



*стадион*

18. Установите соответствие между изображениями и видами закаливания водой.

Изображение	Вид закаливания
<p>1) </p>	<p>А) обливание</p>
<p>2) </p>	<p>Б) обтирание мокрым полотенцем</p>
<p>3) </p>	<p>В) ножные ванны</p>
<p>4) </p>	<p>Г) купание в открытом водоёме</p>

1) б)  
 2) г)  
 3) в)  
 4) а)


+

+

+

+

19-20. Разгадайте ребус. Используя иллюстрации, составьте термины из области физической культуры и спорта.



19.

Бокс 2

20.

Л=Н фильм



Н=Ш франшиза 2

Итого:

21 балл

Проверено:

Марковская Д.А. *[Signature]*  
 Смирнова Т.В. *[Signature]*  
 Кирилова Т.Е. *[Signature]*  
 Чернышова О.Н. *[Signature]*