

Заполняется ПЕЧАТНЫМИ БУКВАМИ чернилами черного или синего цвета по образцам:

А	Б	В	Г	Д	Е	Ж	З	И	К	Л	М	Н	О	П	Р	С	Т	У	Ф	Х	Ц	Ч	Ш	Щ	Ъ	Ы	Ь	Э	Ю	Я	@	8	9	,
A	B	C	D	E	F	G	H	I	J	K	L	M	N	O	P	Q	R	S	T	U	V	W	X	Y	Z	1	2	3	4	5	6	7	0	.

ПРЕДМЕТ

КЛАСС

ДАТА

ШИФР УЧАСТНИКА

75-4

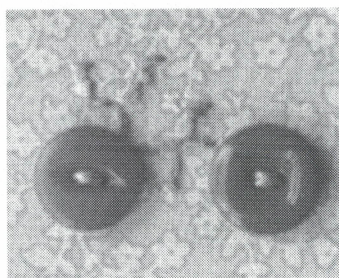

ФАМИЛИЯ

ИМЯ

ОТЧЕСТВО

ШКОЛЬНЫЙ ЭТАП. 5–6 КЛАССЫ  
Направление «Культура дома, дизайн и технологии»  
Практический тур  
«Декор текстильного изделия»

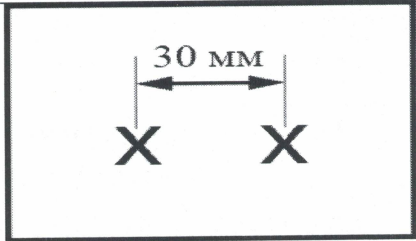

Максимальная оценка за работу – 35 баллов.



**Задание:** используя вдохновляющий пример, выполните декор текстильного изделия. Пришейте две пуговицы с четырьмя или двумя отверстиями различными способами (см. предложенные выше способы). Дополните пришивание пуговиц вышивкой.

**Материалы и инструменты:** хлопчатобумажная ткань светлых тонов размером 15 × 20 см, 2 пуговицы с четырьмя или двумя отверстиями (12–15 мм), рабочая коробка или папка с инструментами для выполнения ручных работ, нитки, нитки для вышивания, ручные иглы, ножницы, карандаш.

Инструкционно-технологическая карта  
«Декор текстильного изделия»

№ п/п	Последовательность выполнения	Технические условия
1	Выберите любой способ пришивания пуговиц	
2	На ткани равномерно и аккуратно наметьте места расположения пуговиц	
3	Пришейте пуговицы выбранным вариантом	– см. рисунок с вариантами – стежки не должны быть затянуты – с изнаночной стороны не должно быть узелков – нитка должна быть прочно закреплена в начале и конце работы
4	Выполните вышивку, имитируя велосипед. Для выполнения вышивки используйте стежок «вперёд иголку», длина стежка 3–5 мм, между стежками 1–2 мм	– см. предложенный вариант 

Окончательная отделка готовой работы. Осуществите самоконтроль качества выполненной работы	Обрежьте рабочие нитки, выполните чистку готового изделия
-----------------------------------------------------------------------------------------------	-----------------------------------------------------------

### Самоконтроль

- Ручные стежки должны быть ровными и аккуратными, выполненными в соответствии с заданием.
- Выполняющий работу должен соблюдать правила безопасной работы и санитарно-гигиенические требования.

### Карта пооперационного контроля практической работы «Декор текстильного изделия»

№	Критерии оценки	Баллы	Баллы по факту
<b>I</b>	<b>Равномерное расположение пуговиц и вышивки на ткани (композиция)</b>	<b>8</b>	<b>7</b>
<b>II</b>	<b>Качественное выполнение работы с изнаночной стороны</b>	<b>7</b>	<b>-</b>
1	Равномерное затягивание стежков	2	1
2	Отсутствие узелков	2	1
3	Аккуратное закрепление ниток в начале и в конце работы	3	1
<b>III</b>	<b>Аккуратный внешний вид</b>	<b>12</b>	<b>-</b>
1	Равномерное затягивание стежков вышивки	2	1
2	Длина стежков соответствует техническим требованиям (3–5 мм)	2	1
3	Расстояние между стежками 1–2 мм	2	2
4	Отсутствие узелков	2	2
5	Выполненная вышивка соответствует заданию (велосипед)	4	4
<b>IV</b>	<b>Окончательная отделка готовой работы</b>	<b>4</b>	<b>-</b>
1	Выполнена чистка готовой работы	2	2
2	Наличие ВТО	2	2
<b>V</b>	<b>Соблюдение правил безопасной работы и санитарно-гигиенических требований. Правильная организация рабочего места</b>	<b>4</b>	<b>4</b>
<b>Итого:</b>		<b>35</b>	<b>28</b>

Итого общее количество баллов за практику \_\_\_\_\_

Председатель Жюри \_\_\_\_\_

Члены Жюри \_\_\_\_\_







*[Подписи]*  
 А.В. Барков  
 Семинова И.А.  
 Тетрасен Н.А.  
 Степанова А.Р.  
 Фисунева С.В.

**ВСЕРОССИЙСКАЯ ОЛИМПИАДА ШКОЛЬНИКОВ**  
**ТЕХНОЛОГИЯ 2024–2025 уч. г.**  
**ШКОЛЬНЫЙ ЭТАП. 5–6 КЛАССЫ**  
 Направление «Культура дома, дизайн и технологии»  
 Теоретический тур

**Максимальная оценка за работу – 20 баллов.**

*Каждый правильный ответ оценивается в 1 балл.*

1. Среди предложенных изображений выберите то, на котором приведена маркировка с упаковки изделия, указывающая на то, что груз следует защищать от попадания прямых солнечных лучей.

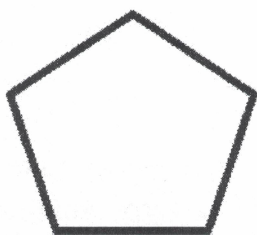
					
А ✓	Б	В	Г	Д	Е

2. Выберите, к какому виду художественной росписи относится изделие, изображённое на рисунке.


- А) Гжельская роспись
- Б) Мезенская роспись
- В) Городецкая роспись
- Г) Жостовская роспись
- Д) Хохломская роспись




3. Какая фигура обладает наибольшей устойчивостью?



а



б



в

4. Выберите правильный ответ

Часть природной среды, преобразованная, приспособленная людьми, называется.....

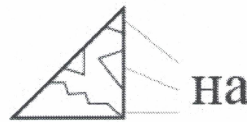
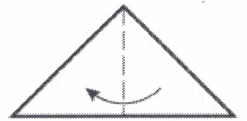
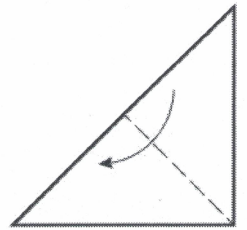
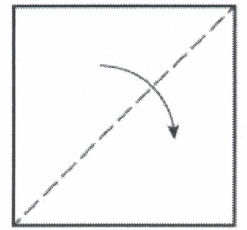
- А. стратосферой;
- Б. техносферой;
- В. атмосферой;

5. Готовясь к зимним праздникам, для оформления класса





75-4

...щиеся делали украшения из бумаги. Одно из них они выполнили по следующей технологии: квадратный лист бумаги сложили и надрезали так, как показано на рисунке.

Какое украшение получилось?



надрез



6. Из предложенного списка выберите тот предмет, который считается символом мира на кухне.

- а) чайник
- б) скатерть
- в) половник
- г) сковорода

7. Из предложенного списка выберите пищевые продукты растительного происхождения.

- а) говядина
- б) яйцо
- в) масло кукурузное
- г) треска
- д) сахар
- е) авокадо

8. Из предложенного списка выберите пищевые продукты животного происхождения.

- а) масло сливочное
- б) гречневая крупа
- в) ламинария
- г) морковь
- д) баранина
- е) сыр

9. При сервировке стола нож нужно положить

- а) слева от тарелки
- б) справа от тарелки
- в) над (за) тарелкой
- г) между тарелкой и краем стола
- д) на тарелку

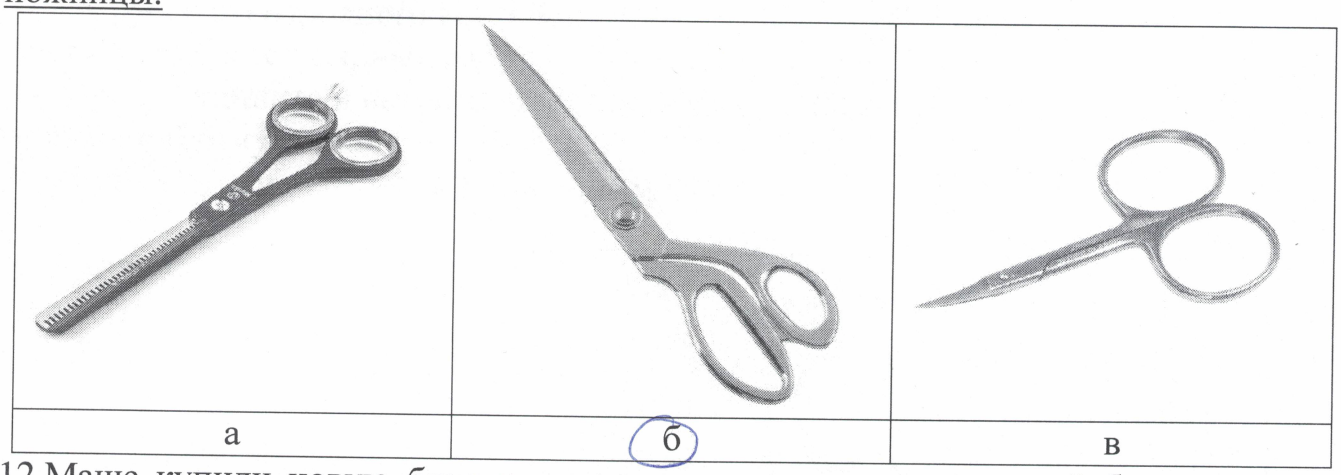
10. Отгадайте загадку.

75-4

На грядках кустиком цветёт,  
 А клубнями в земле растёт.  
 Мы копаем понемножку...  
 Собираем что? картошку


1

11. Из предложенных рисунков выберите тот, на котором изображены портновские ножницы.



1

12. Маше купили новую блузку, на ярлычке по уходу за которой был такой значок.



Что он обозначает?

а	б	<u>в</u>	г
бережная стирка	стирка запрещена при температуре 30 °С	стирка при 30 °С	гладить при 30 °С

1

13. К волокнам растительного происхождения НЕ относятся:

- А) джут;
- Б) льна;
- В) шерсти;
- Г) хлопка.

1

14. Для измерения фигуры человека используют.

- А) сантиметровую ленту
- ~~Б) линейку~~ закройщика
- В) пояс
- Г) швейные нитки

1

Таблица для ответов

1	2	3	4	5	6	7	8	9	10	11	12	13	14
А	А	В	Б	1	Б	В, Г, А, Б, В		а	картошку	В Б	В	В	А, Б


**Творческое задание. (6 баллов)**

1. Выполните эскиз, используя разные цвета, выбрав фартук по назначению (3 балла)

- а) для официантов;
- б) для домашней кухни ;
- в) для русского народного костюма;
- г) для слесарно-столярных работ

2. Опишите и внесите ответы в таблицу(3 балла):

- а) волокнистому составу;
- б) по декоративной отделке и фасонным изменениям.

Назначение:	Эскиз
Костюм для официанток	
ВОЛОКНИСТЫЙ СОСТАВ:	
декоративная отделка:	
<p>Я не знаю что это значит, но: ткань может быть черного, коричневого, или светлого цвета, так же можно придумать ткань без каблуков.</p>	

3

Итого общее количество баллов за теорию 165.

Председатель Жюри [Signature] | А.В. Бакров

Члены Жюри [Signature] | Семилетов С.А.

[Signature] | Н.В. Петров

[Signature] | А.С. Смирнов